

MODUL JUJ TINGKATAN 4**BAHAGIAN A****UNIT 1 : PENGENALAN KEPADA EKONOMI**

1. Apakah yang dimaksudkan dengan ekonomi ?

2. Apakah masalah asas ekonomi yang dihadapi oleh unit-unit ekonomi.

- i.

- ii.

- iii.

- iv.

3. Lengkapkan jadual di bawah.

Jenis barang	Ciri-ciri	Contoh
<hr/>	<hr/>	<hr/>
<hr/>	<hr/>	<hr/>
<hr/>	<hr/>	<hr/>

4. Terangkan istilah-istilah berikut:

(a) kekurangan

(b) kos lepas

(c) pilihan

5. Terangkan bagaimana unit-unit ekonomi yang berikut menyelesaikan masalah ekonomi yang dihadapinya.

Unit ekonomi	Kekurangan	Pilihan	Kos lepas	Contoh
Isi rumah				
Firma				
Kerajaan				

6. Bezakan dua sistem ekonomi dalam jadual di bawah dari aspek-aspek yang dinyatakan.

Aspek	Sistem Ekonomi Kapitalis	Sistem Ekonomi Campuran
Pemilikan sumber		
Pembuat keputusan		
Penentuan harga		
Motif		

7. Berdasarkan pernyataan di bawah, nyatakan masalah asas ekonomi yang dihadapi.

- (a) Syarikat Gemilang menggunakan jentera untuk menghasilkan barang :
- (b) Barang mewah dikeluarkan untuk golongan kaya :
- (c) Syarikat Kita memilih untuk mengeluarkan kasut :
- (d) Sebanyak 2000 pasang kasut dikeluarkan pada bulan Mac :

8. Bagaimanakah sistem ekonomi Islam menyelesaikan masalah asas ekonominya dari segi

- (a) Apa barang dan perkhidmatan yang hendak dikeluarkan.

- (b) Berapa barang dan perkhidmatan yang hendak dikeluarkan

- (c) Bagaimana barang dan perkhidmatan hendak dikeluarkan

- (d) Untuk siapa barang dan perkhidmatan hendak dikeluarkan

Contoh soalan SPM 2007



Gambar 1

- (a) Gambar 1 menunjukkan perbualan antara seorang bapa dengan anaknya.
Terangkan masalah ekonomi yang dihadapi oleh keluarga itu. [6 markah]

Contoh Soalan Kertas 1

SPM 2007

1. Ilmu ekonomi mengkaji bagaimana manusia menggunakan sumber ekonomi yang
 - A terhad untuk memenuhi kehendak yang terhad
 - B tidak terhad untuk memenuhi kehendak yang terhad
 - C terhad untuk memenuhi kehendak yang tidak terhad
 - D tidak terhad untuk memenuhi kehendak yang tidak terhad
2. Pernyataan berikut berkaitan dengan satu masalah ekonomi

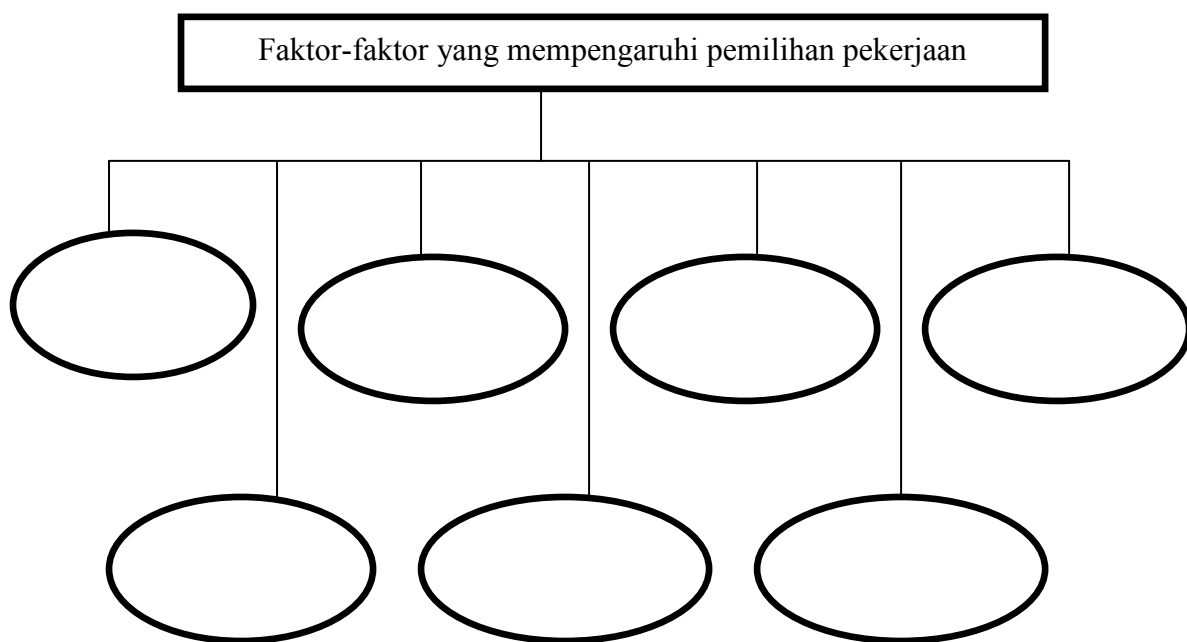
Kekurangan faktor pengeluaran mewujudkan pilihan

Matlamat pilihan tersebut dibuat untuk memaksimumkan

- A keluaran
- B kepuasan
- C kebajikan
- D keuntungan

UNIT 2 : PENDAPATAN DAN PENGGUNAAN PENDAPATAN INDIVIDU

1. Lengkapkan rajah berikut.



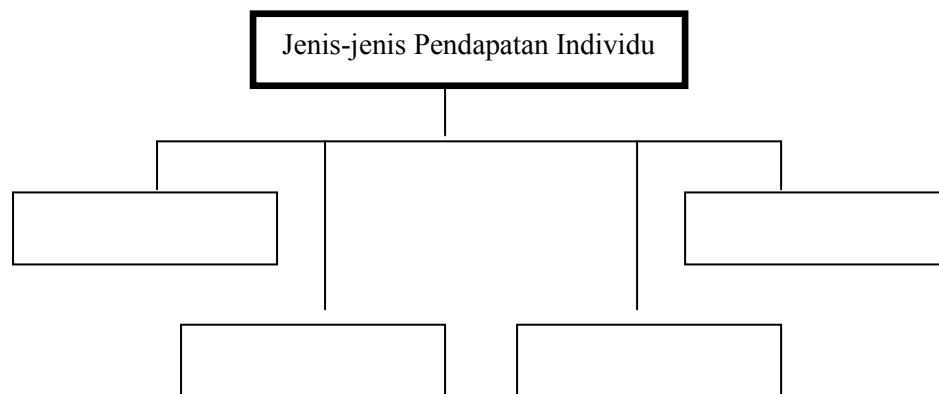
2. Nyatakan sektor ekonomi yang terlibat bagi jenis-jenis pekerjaan berikut.

Jenis pekerjaan	Sektor ekonomi
(i) Arkitek	

(ii) Ejen insurans	
(iii) Polis trafik	
(iv) Penternak ayam	

3. Apakah yang dimaksudkan dengan bayaran pindahan?

4. Lengkapkan rajah di bawah.



5. Mengapakah seseorang individu perlu membuat belanjawan peribadi?

(a)

(b)

(c)

(d)

6. Apakah yang dimaksudkan dengan pendapatan boleh guna?

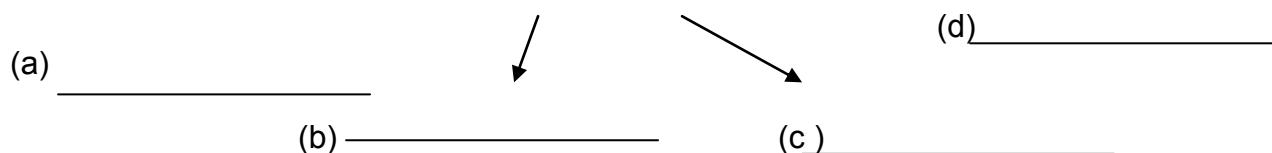
7. Encik Azman menyimpan wang sebanyak RM15 000 dalam akaun tetap dengan Maybank Berhad pada 1 April 2009 dan berakhir pada 30 September 2009. Jika kadar faedah bank ini ialah 4% setahun, berapakah jumlah faedah yang diterima oleh Encik Azman pada 30 September 2009?

8. Bezakan keperluan asas dengan kehendak individu

	Keperluan asas	Kehendak individu
(i)		
(ii)		
(iii)		
(iv)		

9. Lengkapkan rajah di bawah berkaitan dengan tujuan individu membuat pelaburan.





Contoh soalan SPM 2008

2(a) Perbualan berikut tentang kerjaya dua orang sahabat.

Jamal : Arief...Aku bangga engkau menjadi petani yang berjaya.

Arief : Engkau pun apa kurangnya...Jadi pegawai bank.

Bezakan kerjaya yang dipilih oleh Jamal dan Arief berdasarkan faktor pemilihan pekerjaan. (6 markah)

Contoh Soalan Kertas 1

SPM 2007

1. Jadual 1 menunjukkan peratus pekerjaan penduduk di daerah Sri Maju.

Pekerjaan	Peratus (%)
Ejen insurans	10
Penternak	25
Tentera	20
Juruteknik kilang	15
Pembantu kedai	30

Jadual 1

Berapakah peratus penduduk yang terlibat dalam sektor ketiga?

- A 30%
- B 40%
- C 55%
- D 60%

2. Jadual 2 menunjukkan pendapatan dan perbelanjaan Encik Zaki bagi bulan April.

Butiran	RM
Upah	2 500
Makanan dan minimum	800
Bonus	1 200
Dividen	100
Premium insurans	200

Jadual 2

Berapakah jumlah pendapatan Encik Zaki?

- A RM 4 000
- B RM 3 800
- C RM 3 700
- D RM 2 500

UNIT 3 : ISI RUMAH SEBAGAI PENGGUNA

1. Terangkan maksud isi rumah dalam konteks ekonomi.

2. Apakah yang dimaksudkan dengan permintaan ?

3. Nyatakan lima faktor yang mempengaruhi permintaan.

- a.

- b.

- c.

- d.

- e.

4. Jelaskan apakah yang terjadi ke atas permintaan barang X (andaikan faktor-faktor lain tetap) apabila

(a) barang penggantinya mengalami kenaikan harga.

(b) barang penggenapnya mengalami kejatuhan harga.

5. Berdasarkan jadual di bawah, lukiskan keluk permintaan individu bagi topi (sila gunakan kertas graf)

Harga(RM)	Kuantiti diminta(unit)
4	25
8	20
12	15
16	10
20	5

6. Nyatakan sama ada pernyataan di bawah menunjukkan hubungan barang pengganti atau barang penggenap.

a. Permintaan terhadap barang M meningkat apabila harga barang N meningkat.	
b. Permintaan terhadap barang A akan meningkat apabila harga barang B jatuh.	
c. Apabila harga X jatuh, permintaan terhadap barang Y juga jatuh.	
d. Kejatuhan harga barang T telah meningkatkan permintaan barang S	

7. Keanjalan permintaan harga ditakrifkan sebagai

8. Terangkan maksud jenis-jenis keanjalan harga permintaan berikut:
(i) Anjal :

(ii) Tidak anjal :

(iii) Anjal uniti :

9. Hitungkan keanjalan harga permintaan bagi ketiga-tiga jenis barangan yang berikut apabila harga menurun daripada RM 12 kepada RM 10.

Harga (RM)	Kuantiti diminta oleh seseorang pengguna(unit)		
	X	Y	Z
12	50	50	60
10	60	55	70

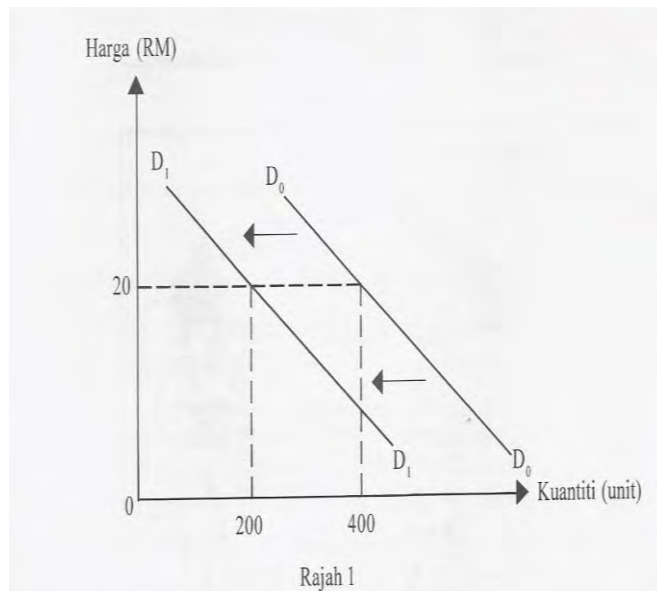
Barang X =

Barang Y =

Barang Z =

Contoh soalan SPM 2007

3 a) Rajah 1 menunjukkan peralihan keluk permintaan kopi.

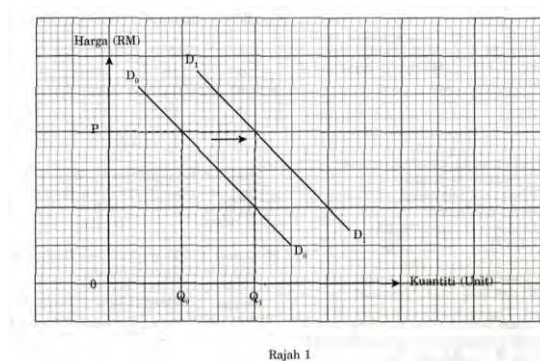


- a) Terangkan tiga faktor yang menyebabkan peralihan keluk tersebut. [6 markah]

Contoh Soalan Kertas 1

SPM 2008

1. Rajah 1 menunjukkan peralihan keluk permintaan sesuatu barang



Apakah faktor yang menyebabkan keluk permintaan beralih dari D_0D_0 ke D_1 ?

- I Kenaikan harga barang pengganti
- II Penurunan pendapatan pengguna
- III Jangkaan harga akan turun pada masa depan
- IV Penurunan kadar cukai pendapatan perseorangan

- A I dan II
- B I dan IV
- C II dan III
- D III dan IV

2. Jadual 1 menunjukkan harga dan kuantiti diminta bagi suatu barang.

Harga (RM)	Kuantiti Diminta (Unit)
10	5
20	4

Jadual 1

Berapakah keanjalan harga permintaan jika harga berubah daripada RM 10 kepada RM 20?

- A 0.20
- B 0.25
- C 0.40
- D 0.50

UNIT 4 : FIRMA SEBAGAI PENGELUAR

1. Huraikan konsep-konsep yang berikut:

a. Firma

b. Input berubah

c. Keluaran purata

d. Keluaran marginal

2. Bezakan antara pengeluaran jangka pendek dengan pengeluaran jangka panjang.

Pengeluaran jangka pendek	Pengeluaran jangka panjang

3. Bezakan antara kos tetap dengan kos berubah

Kos tetap	Kos berubah

4. Berdasarkan senarai di bawah, lengkapkan jadual kos tetap dan kos berubah bagi sebuah firma

Sewa tanah	Gaji pekerja	Kos bahan mentah	Gaji pengurus
Bil elektrik	Insurans	Bayaran balik pinjaman bank	

Kos tetap	Kos berubah

5. Maklumat di bawah berkaitan dengan kos pengeluaran sebuah firma.

Jumlah kos = RM 1000	Kos berubah = RM 450	Jumlah keluaran = 50 unit
----------------------	----------------------	---------------------------

Hitungkan:

Kos Tetap	Kos Purata

6. Jadual di bawah menunjukkan jumlah keluaran dengan kos berubah sebuah firma.

Keluaran	Kos berubah
20	35
30	40
40	55

Jika kos tetap firma ini ialah RM 100, hitungkan:

a) Jumlah kos pada keluaran ke-30

b) Kos purata pada keluaran ke-20

c) Kos sut pada keluaran ke-40

7. Lengkapkan jadual di bawah.

Tanah (hektar)	Buruh (orang)	Jumlah keluaran (unit)	Keluaran sut (unit)	Keluaran purata (unit)
200	0	0	-	-
	1	10		
	2			10.5
200	3			11
	4		13	
	5		9	
	6	60		

8. Jadual di bawah menunjukkan harga dan kuantiti barang L yang ditawarkan.

Harga(RM)	Kuantiti yang ditawarkan(unit)
10	20
12	30
14	35

Hitungkan keanjalan harga penawaran jika:

(a) Harga meningkat daripada RM 10 kepada RM 12

(b) Harga menurun daripada RM 14 kepada RM 10

Contoh soalan SPM 2008

3 (b) Jadual 1 menunjukkan fungsi pengeluaran jangka pendek sebuah firma.

Bilangan Buruh (orang)	Jumlah Keluaran (Unit)	Keluaran Purata (Unit)	Keluaran Sut (Unit)
0	0	-	-
1	10	10	10
2	22	11	12
3	36	12	14
4	49	12.25	13
5	54	10.80	5
6	58	9.67	4
7	58	8.28	0

8	54	6.75	- 4
---	----	------	-----

Jadual 1

Jelaskan hubungan antara buruh dengan keluaran purata dan keluaran sut.
(8 markah)

Contoh Soalan Kertas 1

SPM 2008

1. Puan Zaidah memerlukan ikan, mesin pengisar dan pekerja untuk membuat keropok.

Apakah input tetap yang terlibat dalam proses tersebut?

- A Ikan, tepung dan mesin pengisar
- B Pekerja dan mesin pengisar
- C Ikan, tepung dan pekerja
- D Mesin pengisar

2. Maklumat berikut berkaitan dengan penentu penawaran ikan.

Keadaan angin kencang dan laut bergelora di perairan pantai timur Semenanjung Malaysia dijangka berterusan

Sumber: Ubah suai daripada New Sabah Times, 31 Oktober 2006

Apakah kesan ke atas pasaran ikan?

- I Permintaan bertambah
- II Penawaran berkurang
- III Harga meningkat
- IV Lebihan penawaran berlaku

- A I dan II
- B I dan IV
- C II dan III
- D III dan IV

UNIT 5 : PASARAN

1. Terangkan konsep – konsep berikut:

i) Pasaran

ii) Permintaan pasaran

iii) Keseimbangan pasaran

2. Jadual di bawah menunjukkan permintaan individu bagi barang Y pada pelbagai tingkat harga.

Harga(RM)	Permintaan individu(unit)			Permintaan pasaran(unit)
	En Chong	Pn. Leha	Pn. Minah	
10	16		10	38
12	12	10	8	
14		8	6	22
16	4	6		12

Berdasarkan jadual di atas:

(a) Hitungkan permintaan pasaran bagi barang Y dan lengkapkan jadual di atas

(b) Lukiskan keluk permintaan pasaran bagi barang Y.



3. Jadual di bawah menunjukkan permintaan pasaran dan penawaran pasaran bagi saliper pada pelbagai tingkat harga.

Harga (RM)	Kuantiti permintaan pasaran (unit)	Kuantiti penawaran pasaran (unit)
3	70	20
4	60	30
5	50	40
6	40	50
7	30	60

Berdasarkan jadual di atas ;

- (a) Dengan menggunakan kertas graf, lukiskan keluk keseimbangan pasaran.

- (b) Berdasarkan keluk tersebut, tentukan :

- Harga keseimbangan _____
- Kuantiti keseimbangan _____
- Keadaan pasaran pada tingkat harga RM4 _____
- Keadaan pasaran pada tingkat harga RM6 _____

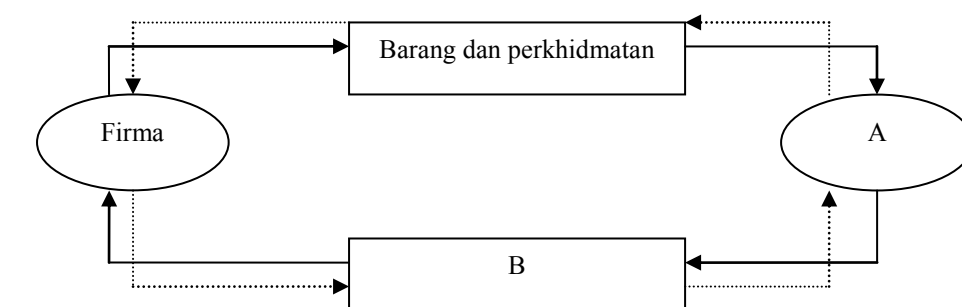
4. Apakah yang dimaksudkan dengan keluk penawaran pasaran?

5. Lengkapkan jadual di bawah:

Harga (RM)	Permintaan pasaran	Penawaran pasaran	Lebihan DD/SS
20	150	70	
40	130	90	
60	110	110	
80	90	130	
100	70	150	

6. Apakah yang dimaksudkan dengan aliran pusingan pendapatan ekonomi dua sektor ?

7. Lengkapkan rajah di bawah.



—————→ C
→ D

A : _____
 B : _____
 C : _____
 D : _____

Contoh soalan SPM 2008

3(c) Jadual 2 menunjukkan permintaan terhadap suatu barang.

Harga (RM)	Kuantiti Diminta (Unit)	
	Amani	Mokhtar
20	12	16
30	8	12
40	4	8

Jadual 2

- (i) Berapakah kuantiti permintaan pasaran pada tingkat harga RM30?
[1 markah]
- (ii) Lukiskan pembentukan keluk permintaan pasaran di atas kertas graf dengan menggunakan skala 2 cm : 8 unit pada paksi kuantiti dan skala 2cm : RM 10 pada paksi harga.
[8 markah]
- (iii) Jelaskan pembentukan keluk permintaan di 3(c)(ii). [4 markah]

Contoh Soalan Kertas 1

SPM 2008

1. Maklumat berikut berkaitan dengan penentu penawaran ikan.

Keadaan angin kencang dan laut bergelora di perairan pantai timur Semenanjung Malaysia dijangka berterusan.

Sumber: Ubah suai daripada New Sabah Times, 31 Oktober 2006

Apakah kesan ke atas pasaran ikan?

- | | |
|-------------------------------|--------------|
| I. Permintaan bertambah | |
| II. Penawaran berkurang | |
| III. Harga meningkat | |
| IV. Lebihan penawaran berlaku | |
| A I dan II | C II dan III |
| B I dan IV | D III dan IV |

2. Jadual 2 menunjukkan kuantiti beg yang ditawarkan oleh firma **R**, **S** dan **T** pada pelbagai tingkat harga.

Harga Beg (RM)	Kuantiti yang Ditawar (Unit)
----------------	------------------------------

	Firma R	Firma S	Firma T
3	5	5	4
4	10	8	6
5	15	9	10
6	20	10	14

Jadual 2

Jika kuantiti permintaan pasaran ialah 34 unit, berapakah harga keseimbangan?

- A RM3
B RM4

- C RM5
D RM6

BAHAGIAN B

UNIT 1 : PENGENALAN KEPADA EKONOMI

Firma C ingin mengeluarkan alat pemain video dan radio tetapi wang yang diperuntukkan tidak mencukupi

- 1.a) Bagaimanakah firma C menyelesaikan masalah ekonomi tersebut ? [5 markah]

Cahaya matahari
Lampu jalan

- b) Jelaskan perbezaan antara kedua-dua jenis barangan tersebut. [8 markah]

Di negara X, kerajaan berkuasa dalam membuat keputusan.

- c) i) Nyatakan jenis sistem ekonomi yang diamalkan di negara X.
ii) Bagaimanakah negara tersebut menyelesaikan masalah asas ekonomi yang dihadapinya? [12 markah]
- 2 a) Syarikat Arif ingin berjaya dalam bidang perindustrian. Terangkan masalah asas ekonomi yang mungkin dihadapi. [8 markah]
- b) Terangkan bagaimana Malaysia menyelesaikan masalah asas ekonomi. [11 markah]
- c) Bezakan fungsi kemudahan lampu awam dengan telefon awam yang disediakan oleh kerajaan dalam konteks ekonomi. [6 markah]
3. a) Syarikat Citra Sdn. Bhd. ingin mengeluarkan telefon bimbit.
- i) Nyatakan ciri-ciri barang tersebut. [5 markah]
- ii) Terangkan masalah asas ekonomi yang perlu dipertimbangkan oleh Syarikat Citra Sdn. Bhd. [8 markah]
- b) Bezakan antara sistem ekonomi Campuran dengan sistem ekonomi Perancangan Pusat. [12 markah]

UNIT 2 : PENDAPATAN DAN PENGGUNAAN PENDAPATAN INDIVIDU

- 1 a) Huraikan maksud pendapatan boleh guna [3 markah]
- b) Jelaskan faktor-faktor pemilihan pekerjaan [10 markah]
- c) (i) Apakah yang dimaksudkan dengan belanjawan peribadi. [2 markah]
(ii) Terangkan langkah-langkah dalam menyediakan belanjawan peribadi. [10 markah]
- 2 a) Terdapat 3 jenis sektor ekonomi. Jelaskan dan beri contoh bagi setiap sektor. [9 markah]
- b) Bagaimanakah individu menggunakan pendapatan boleh gunanya. [6 markah]
- c) (i) Apakah yang dimaksudkan dengan pendapatan individu. [2markah]
(ii) Terangkan 4 jenis pendapatan individu. [8 markah]

UNIT 3 : ISI RUMAH SEBAGAI PENGGUNA

1. a) Dengan menggunakan bantuan gambar rajah keluk permintaan individu, terangkan hubungan antara harga dengan kuantiti yang diminta. [9 markah]
- b) (i) Jelaskan hukum permintaan [2 markah]
(ii) Terangkan faktor-faktor yang mempengaruhi permintaan [8 markah]
- c) Terangkan maksud keanjalan permintaan harga yang berikut:
(i) permintaan anjal
(ii) permintaan anjal satu [6 markah]
2. a) Dengan memberi contoh, jelaskan jenis-jenis barang berikut:
(i) barang pengganti
(ii) barang penggenap [8 markah]
- b) Perubahan pendapatan boleh mempengaruhi permintaan untuk suatu barang. Terangkan

Bagaimana kenaikan pendapatan seseorang pengguna boleh mempengaruhi kuantiti permintaan untuk
(i) barang mewah
(ii) barang bawahan
(iii) barang mesti [10 markah]

c)

Harga (RM)	Kuantiti yang diminta		
	Barang X	Barang Y	Barang Z
30	200	100	50
33	180	95	30

Hitungkan keanjalan harga permintaan untuk 3 jenis barang di atas, jika harga berubah daripada RM30 kepada RM33 dan nyatakan jenis-jenis keanjalan barang-barang tersebut. [7 markah]

3. a) Jelaskan strategi yang dilakukan oleh pengeluar untuk meningkatkan hasil jualan apabila pekali keanjalan harga permintaan menunjukkan:

- (i) Anjal
- (ii) Tidak Anjal
- (iii) Anjal satu

[6 markah]

- b) Berdasarkan contoh yang sesuai, bezakan perubahan dalam kuantiti yang diminta dengan peralihan keluk permintaan. [5 markah]

Harga Barang T (RM)	Kuantiti diminta(unit)	
	Januari 2009	September 2009
4	31250	75215

- c) Berdasarkan jadual di atas mengapakah berlakunya perubahan permintaan terhadap barang T ?

[10 markah]

UNIT 4: FIRMA SEBAGAI PENGELUAR

1. a) Apakah yang dimaksudkan dengan pengeluaran?

[2 markah]

Syarikat Amin menggunakan input tetap dan input berubah dalam

- b) Berikan perbezaan antara input tetap dan input berubah berserta contohnya. [6 markah]

- c) Jelaskan konsep-konsep berikut:

- i) kos purata
- ii) kos sut
- iii) kos berubah

[6 markah]

Keluaran (unit)	Jumlah kos (RM)	Kos purata	Kos sut
0	100		
2	120		
4	140		
6	160		
8	180		
10	250		

- d) Lengkapkan jadual di atas dan terangkan hubungan antara tingkat keluaran dengan kos purata dan kos sut

[13 markah]

2. a) Penawaran sesuatu barang sangat dipengaruhi oleh harga barang itu sendiri. Dengan menggunakan rajah, jelaskan pernyataan di atas. [15 markah]

- b) Jadual di bawah menunjukkan peratus perubahan harga dengan peratus perubahan kuantiti yang ditawarkan bagi kasut buku dan pakaian

Jenis barang	Peratus perubahan harga	Peratus perubahan kuantiti yang ditawarkan
Kasut	20	2
Buku	5	10
Pakaian	8	8

Berdasarkan jadual di atas :

- i. Hitungkan nilai keanjalan penawaran bagi ketiga-tiga barang tersebut

[6 markah]

- ii. Mengapakah penawaran kasut kurang anjal?

[4 markah]

Hukum penawaran menyatakan apabila harga sesuatu barang naik, kuantiti penawaran barang itu akan bertambah.

3. a) Huraikan faktor-faktor yang mempengaruhi penawaran sesuatu barang.

[10 markah]

Faktor tetap	Faktor berubah	Jumlah Keluaran	Keluaran purata	Keluaran sut
10	0	0	-	-
10	1	4	4	4
10	2	11	5.5	7
10	3	24	8	13
10	4	40	10	16
10	5	50	10	10
10	6	54	9	4
10	7	56	8	2
10	8	56	7	0
10	9	45	5	-11

b) Berdasarkan jadual di atas , terangkan hubungan antara jumlah keluaran, keluaran purata dan keluaran sut.

[10 markah]

c) Jelaskan mengapa keluk penawaran beralih ke kanan.

[5 markah]

UNIT 5: PASARAN

1. a) Jadual dibawah menunjukkan penawaran dan permintaan bagi udang harimau.

Harga (RM)	Kuantiti diminta (unit)	Kuantiti ditawarkan (unit)
10	200	80
20	180	120
30	160	140
40	140	180
50	120	220

- berdasarkan jadual di atas lukiskan rajah keseimbangan pasaran di atas kertas graf dan jelaskan bagaimana titik keseimbangan dicapai
- terangkan apakah yang terjadi di pasaran pada tingkat harga RM40

[15 markah]

b) Dengan bantuan gambarajah, terangkan pergantungan sektor isi rumah dan sektor firma dalam ekonomi dua sektor

[10 markah]

2. a) Berdasarkan peristiwa berikut, jelaskan kesannya ke atas pasaran ikan (setiap peristiwa adalah berasingan)
- musim tengkujuh melanda pantai timur semenanjung
 - teknik moden menangkap ikan telah ditemui

- iii. ternakan puyuh diserang oleh penyakit
- iv. berkembangnya industri menternak ikan air tawar [12 markah]

b) Jadual di bawah menunjukkan penawaran barang Z oleh firma K dan firma Y .

Harga (RM)	Kuantiti penawaran (unit)	
	Firma K	Firma Y
30	10	12
40	15	16
50	18	20
60	21	24

Berdasarkan jadual di atas :

- i. hitungkan penawaran pasaran pada setiap tingkat harga yang dinyatakan
 - ii. lukiskan dan terangkan pembentukan keluk penawaran pasaran bagi barang tersebut [13 markah]
3. a) Terangkan perbezaan antara penawaran individu dengan penawaran pasaran [6 markah]
- b) Jelaskan peranan isi rumah dan firma dalam ekonomi dua sektor [10 markah]

Keluk permintaan buruh mencerun ke bawah dari kiri ke kanan

- c) Terangkan kenapa keluk tersebut berbentuk demikian [9 markah]

MODUL SOALAN JUJ TINGKATAN LIMA 2010

Bab Satu: Wang Dan Institusi Kewangan

1. Wang ialah

2. Lima ciri wang yang baik ialah:

Ciri-ciri wang	Huraian

3. Terangkan empat fungsi RM dalam aktiviti ekonomi di Malaysia

- i)
-
- ii)
-
- iii)
-
- iv)
-

Encik Rasul membeli sebuah rumah berharga RM 200 000.00
 Pemaju perumahan telah memberi beliau diskaun sebanyak
 RM 5 000.00 dan wang tersebut dimasukkan ke dalam akaun
 simpanan tetap di bank.

4. Apakah fungsi wang dalam situasi di atas?

.....

5. Terangkan kelebihan sistem wang berbanding sistem barter.

Sistem wang	Sistem barter

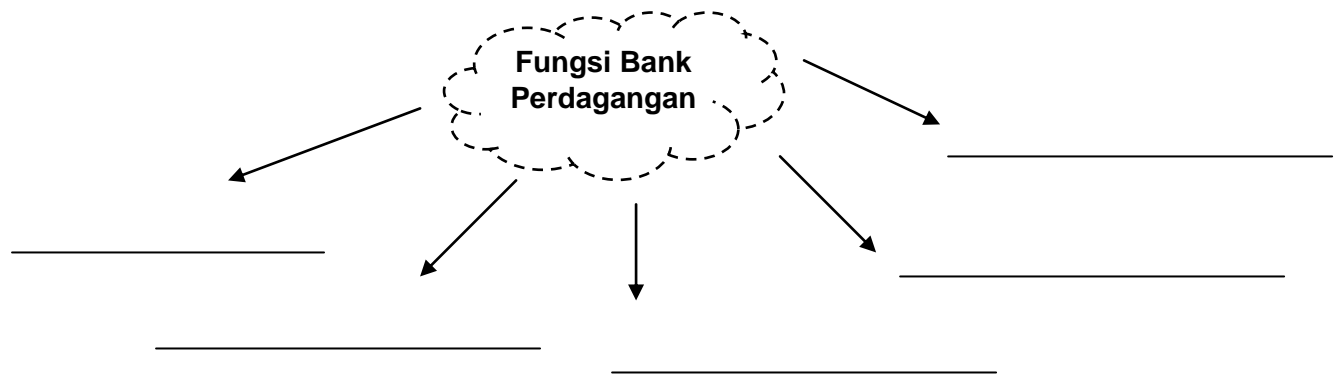
6. Huraikan secara ringkas prinsip perbankan Islam di bawah.

(i) Bai Bithaman Ajil

(ii) At Takjiri

(iii) Musyarakah

7



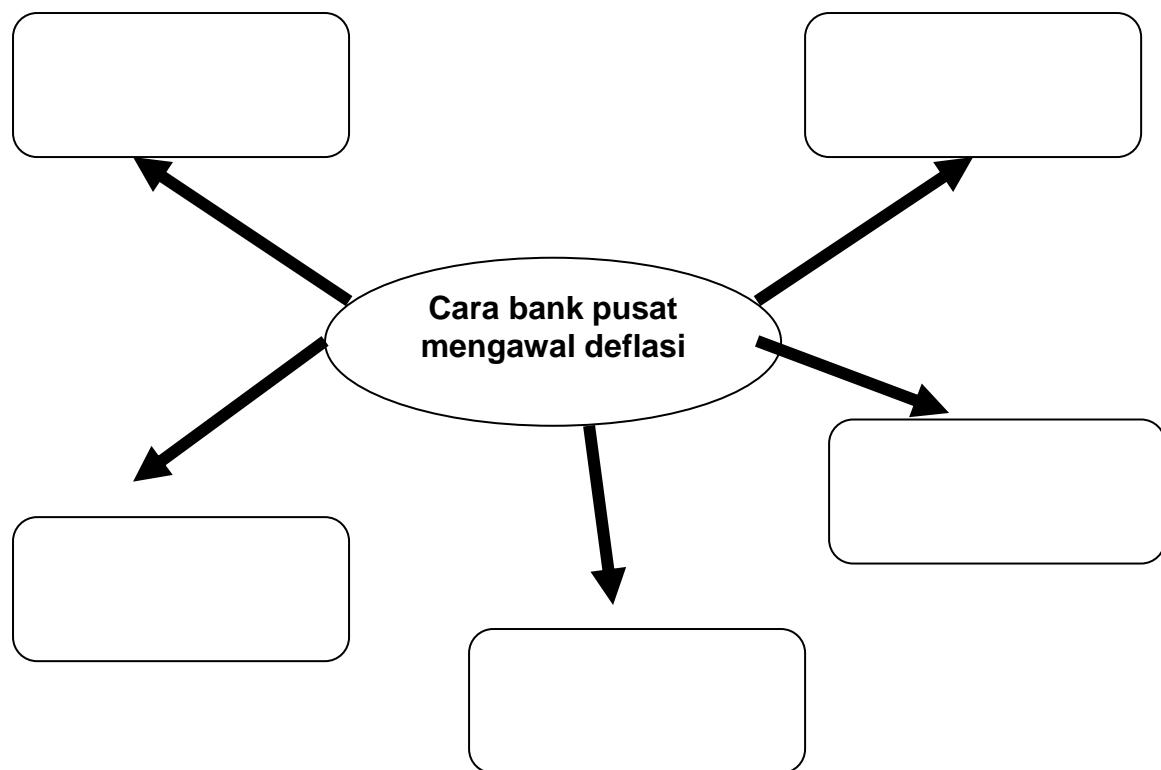
8. Terangkan istilah-istilah berikut:

(i) Kemudahan overdraf

(ii) Draf Bank

(iii) Pindahan kredit

9. Lengkapkan carta berikut:



10. Nyatakan sama ada pernyataan-pernyataan yang berikut betul atau salah:

Pernyataan	Betul/Salah
1. Bank Simpanan Nasional merupakan bank kerajaan	
2. Semasa deflasi, kuasa beli masyarakat tinggi	
3. Kemudahan overdraf hanya untuk pemegang akaun Semasa dan akaun tetap	
4. Kadar faedah untuk deposit tetap lebih rendah berbanding dengan deposit tabungan	
5. Tabarru ialah persetujuan peserta mendermakan carumannya bagi membantu pihak yang ditimpa risiko	

Contoh soalan Kertas 2 SPM 2005

- (b) Gambar 3 menunjukkan iklan komputer daripada Syarikat Maju Jaya Sdn. Bhd.



Gambar 3

Terangkan fungsi wang dalam iklan itu.

[4 markah]

- (c) Gambar 4 adalah perbualan antara seorang anak dengan bapanya.



Gambar 4

Terangkan cara bank pusat mengawal keadaan ekonomi seperti yang dinyatakan dalam perbualan itu.

[12 markah]

Contoh Soalan Kertas 1

SPM 2008

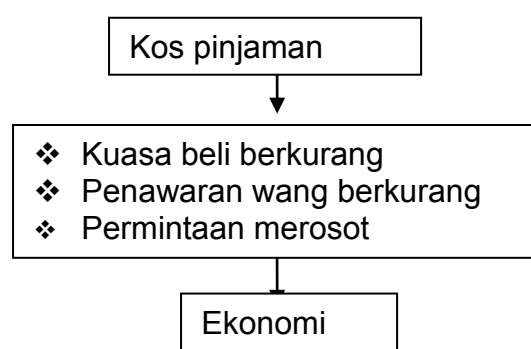
1. Maklumat berikut berkaitan dengan satu kelemahan sistem barter.

Urus niaga secara kredit tidak dapat dijalankan dalam

Apakah fungsi wang yang dapat mengatasi kelemahan di atas?

- A** Alat ukuran nilai
- B** Alat simpanan nilai
- C** Alat bayaran tertunda
- D** Alat perantaraan pertukaran

2. Rajah 4 menunjukkan kesan suatu tindakan yang dijalankan oleh kerajaan.



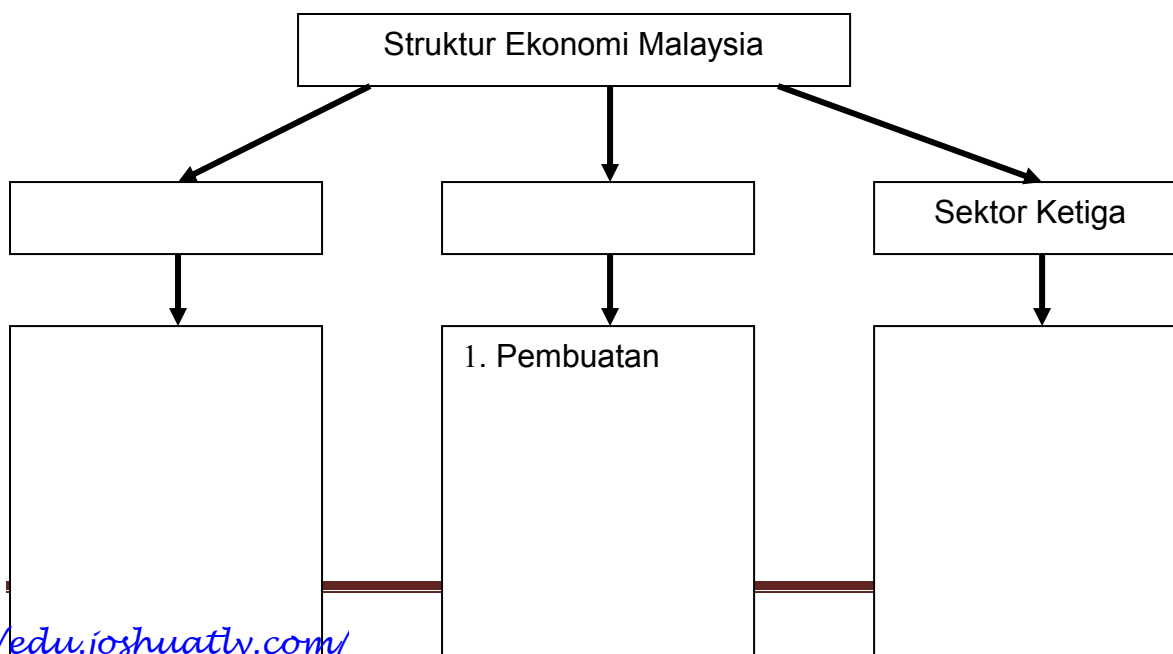
RAJAH 4

Apakah tindakan tersebut?

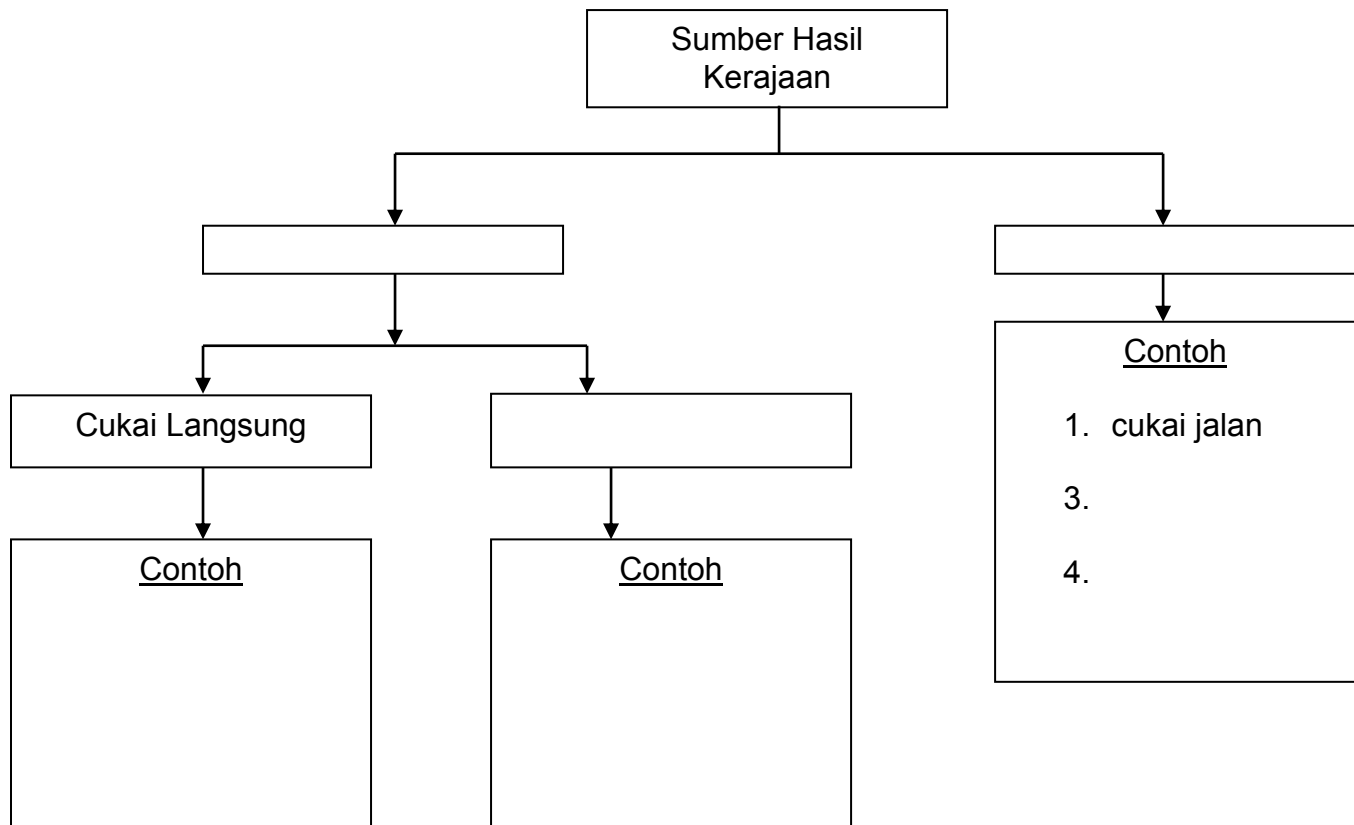
- A** Menaikkan kadar faedah
- B** Meningkatkan kadar rizab tunai
- C** Meningkatkan kadar rizab berkanun
- D** Memanjangkan tempoh pembiayaan

Bab 2 : Ekonomi Malaysia

1. Lengkapkan carta berikut:



2 Lengkapkan maklumat yang berikut:



3. Terangkan konsep-konsep berikut:

(i) Belanjawan lebihan :

(ii) Belanjawan kurangan

(iii) Belanjawan seimbang

- 4 Senaraikan tiga contoh perbelanjaan mengurus dan tiga contoh perbelanjaan pembangunan.

Perbelanjaan Mengurus

Perbelanjaan Pembangunan

i)

ii)

ii)

ii)

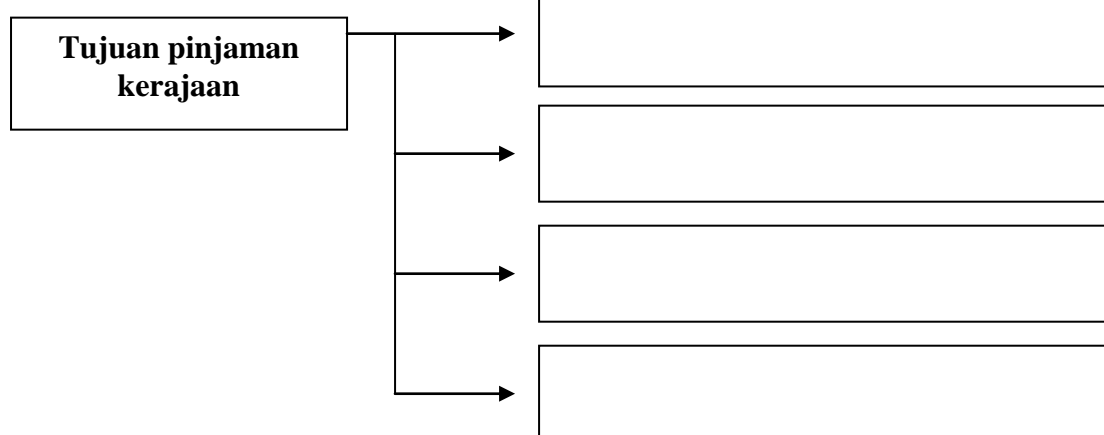
iii)

iii)

- 5 Lengkapkan jadual di bawah
Perbezaan Pinjaman Dalam Negeri dan Luar Negeri

Pinjaman Dalam Negeri	Faktor-faktor	Pinjaman Luar Negeri

6



Tingkat harga umum naik
berterusan dan kuasa beli jatuh

8. a) Apakah situasi yang dihadapi di atas?
.....
- b) Jelaskan dua langkah yang perlu diambil oleh kerajaan melalui belanjawan untuk memperbaiki keadaan ekonomi di atas.
- i)
contohnya menangguhkan projek pembangunan, kesannya
....., perbelanjaan masyarakat berkurang
- ii) Menaikkan kadar cukai, contohnya
Pendapatan bolehguna berkurang,

Contoh Soalan Kertas 2 SPM

SPM 2005

- 5 (b) Terangkan lima jenis cukai tidak langsung [10 markah]

Contoh Soalan SPM Kertas 1

SPM 2008

1. Contoh yang manakah merupakan cukai tidak langsung?
- A** Cukai tanah
B Cukai pintu
C Duti kastam
D Duti setem
2. Maklumat berikut berkaitan dengan perbelanjaan pembangunan sesebuah negara.

Kerajaan telah memperuntukkan RM40 juta untuk membina sebuah hospital baru

Apakah jenis perbelanjaan pembangunan tersebut?

- A** Keselamatan
B Pentadbiran Am

- C** Perkhidmatan Sosial
D Perkhidmatan Ekonomi

Bab 3 : Hubungan Ekonomi Antarabangsa

1. Perdagangan antarabangsa ialah

2. Huraikan lima sebab wujudnya perdagangan antarabangsa
 - i)

 - ii)

 - iii)

 - iv)

 - v)

Urus niaga A

Syarikat A mengeluarkan ubat-ubatan tradisional yang dijual ke seluruh negara termasuklah Sabah dan Sarawak

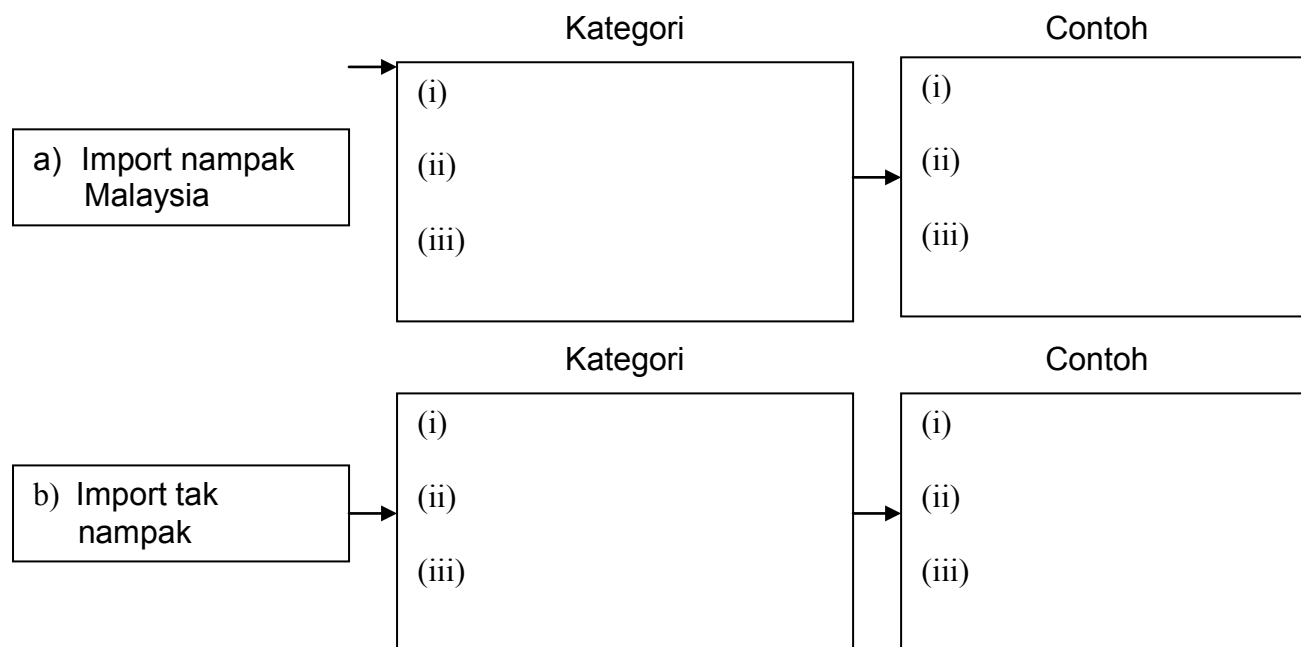
Urus niaga B

Syarikat B juga mengeluarkan ubat-ubatan tradisional dan dijual ke luar negara seperti USA dan Jerman

3. Terdapat persamaan dan perbezaan antara urus niaga A dan urus niaga B. Jelaskan perbezaannya berdasarkan aspek-aspek yang berikut:

Urus Niaga A	Aspek Perbezaan	Urus Niaga B
	Pasaran	
	Mata wang	
	Sekatan perdagangan	
	Dokumen	
	Sempadan perdagangan	
	Jarak dan kos	

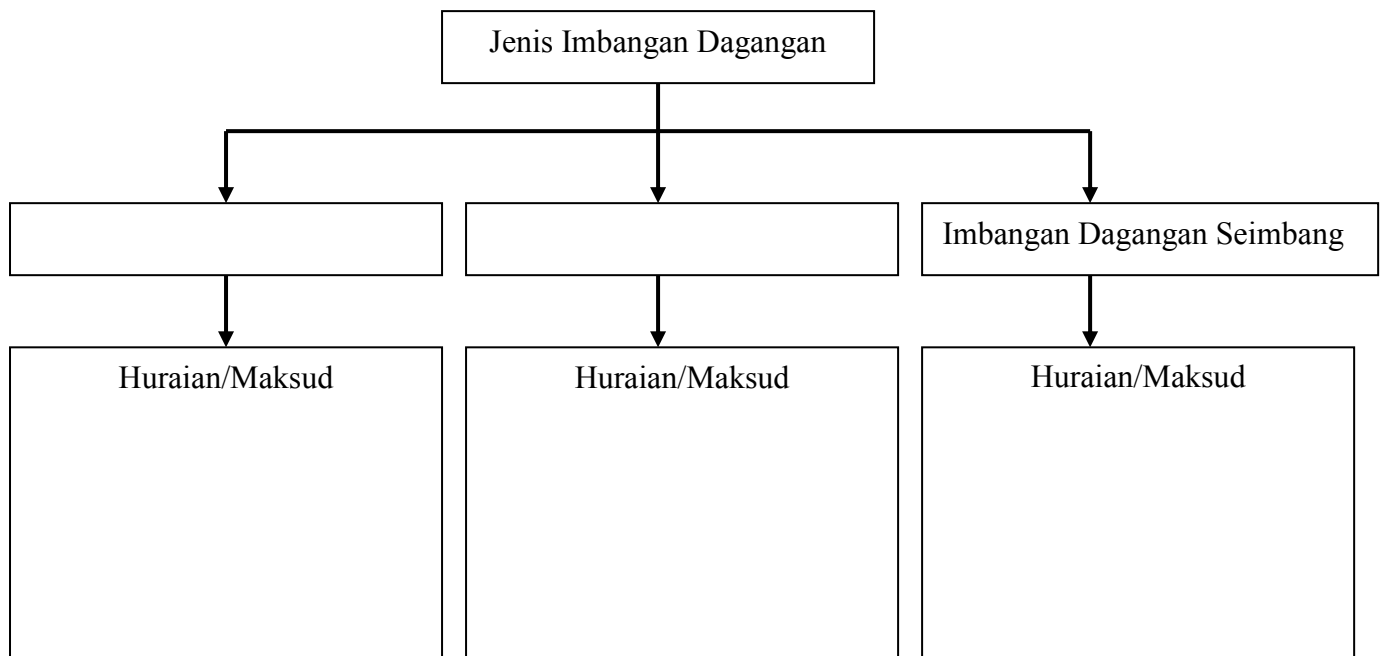
4. Lengkapkan rajah di bawah:



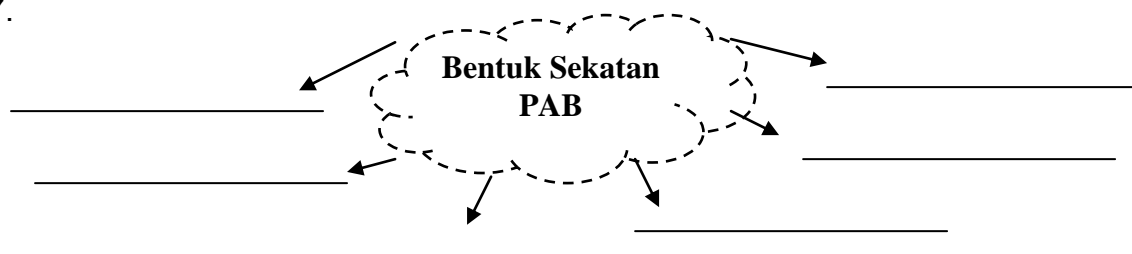
5. Huraikan empat kebaikan perdagangan antarabangsa

- i)
-
- ii)
-
- iii)
-
- iv)
-

6. Lengkapkan rajah berikut:



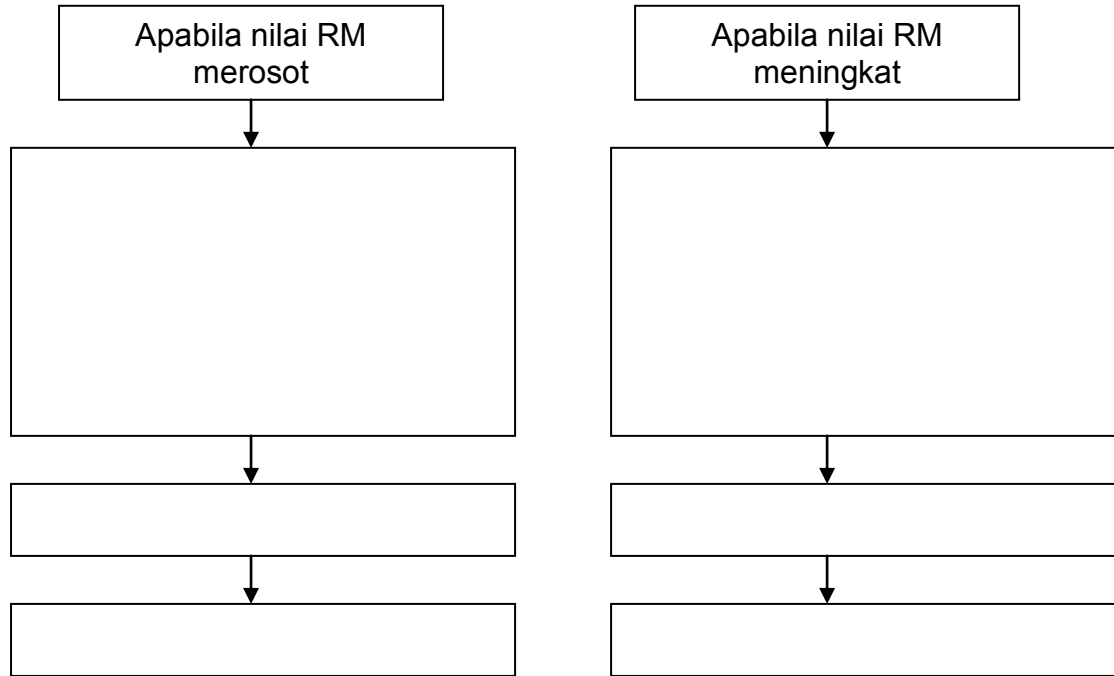
7.



8. Senaraikan tujuan kerajaan mengenakan sekatan PAB

- i).....
- ii).....
- iii).....
- iv).....

9. Lengkapkan carta di bawah



10. Padankan bentuk sekatan berikut dengan huraian yang tepat:

Bentuk Sekatan	Huraian
Tarif	Satu dasar kerajaan untuk mengawal kuantiti wang asing dalam Negara
Kuota	Satu larangan import atau eksport ke atas sesebuah negara atau barangan untuk tempoh masa tertentu
Subsidi	Sekatan dalam bentuk undang-undang dan dasar kerajaan
Kawalan pertukaran asing	Sekatan terhadap kuantiti maksimum yang boleh diimport
Embargo	Cukai yang dikenakan ke atas barangan import
Sekatan bukan ekonomi	Bantuan kerajaan kepada pengeluar tempatan untuk mengurangkan kos pengeluaran

11. Nyatakan sama ada aktiviti berikut menyebabkan berlakunya permintaan atau penawaran terhadap RM:

Aktiviti	Permintaan/Penawaran
Rakyat Malaysia melancong ke Jepun	
Encik Yushimura dari Jepun mengimport kain songket dari Terengganu	
MARA menghantar pelajar-pelajar tajaan ke United Kingdom untuk melanjutkan pelajaran	
Syarikat Petronas membuat pelaburan di Kuwait	
Pelancong dari Sweden menginap di Hotel Seri Malaysia ketika melawat negara ini	

Contoh Soalan SPM Kertas 2**SPM 2006**

5 (b) Terangkan lima kebaikan perdagangan antarabangsa [10 markah]

(c) Jadual 5 menunjukkan maklumat imbalan pembayaran sebuah negara dalam Tempoh setahun.

Butiran	RM (juta)
Perjalanan	70
Eksport kayu balak	600
Tambang dan insurans	-590
Import kereta	400
Pindahan bersih	-70
Import jentera	300
Pengangkutan	-40
Eksport sawit	500
Pelancongan	-110
Dividen	-50

Hitungkan imbalan akau semasa (7 markah)

Contoh soalan SPM Kertas 1

SPM 2008

1. Antara yang berikut, yang manakah kepentingan pertukaran asing bagi sebuah negara?

- I Membiayai import
- II Membiayai eksport
- III Menambah pelaburan dalam negara
- IV Membayar balik pinjaman projek

- A I dan II
- B I dan IV
- C II dan III
- D III dan IV

2. Maklumat berikut berkaitan dengan kadar pertukaran asing antara Ringgit Malaysia dengan Dolar Singapura.

$$\text{RM } 3.50 = \text{S\$ } 1.00$$

Berapakah nilai barang dalam Ringgit Malaysia jika harga barang ialah S\$ 8 750.00?

- A** RM 31 700
- B** RM 31 670
- C** RM 30 625
- D** RM 29 300