

الاسم واللقب:

.....
.....

اختبار
الرياضيات
الثلاثي الثاني
2016/2015

المدرسة:.....

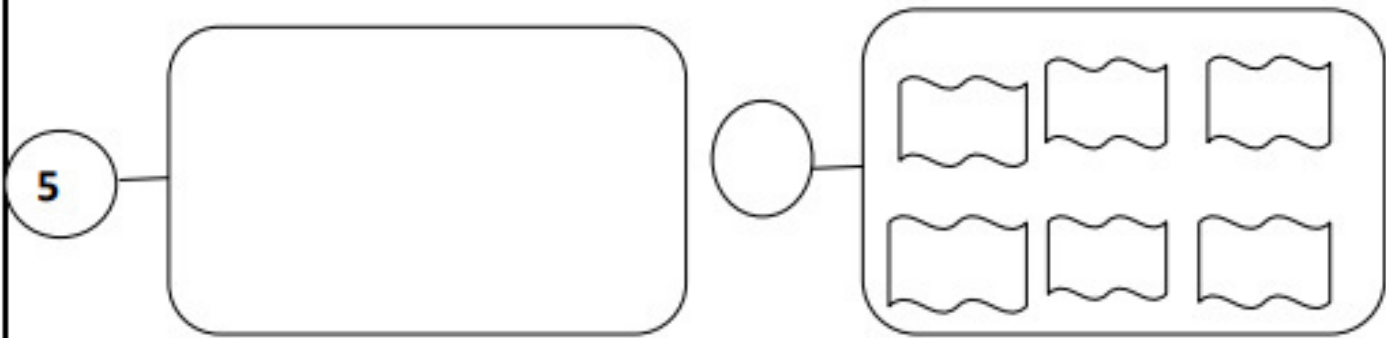
القسم: السنة الأولى

السند

الأطفال يرتبون البيت. صفف رفيق مجموعة من الكتب في أعلى رف وأخرى في أسفل رف.

التعليم 1 :

أتمم بما يناسب



مع 1 أ

مع
ب 1

التعليم 2 :
أحسب العدد الجملي للكتب :

$$. = . + .$$

مع 2 أ

مع
ب 2

التعليم 3 :

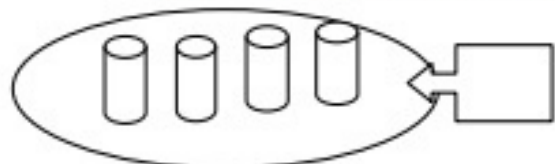
أرتب الأعداد من الأصغر إلى الأكبر

.....

مع 2 ج

Prepared by:
موقع علمني
www.3alemni.tn

المتن 2: سندس ترتب الكؤوس.



مع 1 أ

التعليم 1: أتمم المجموعات بما يناسب:

التعليم 2: أحسب العدد الجملي للكؤوس :

. = . + .

مع
ب1

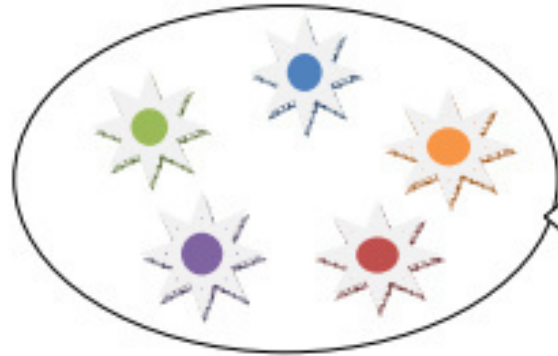
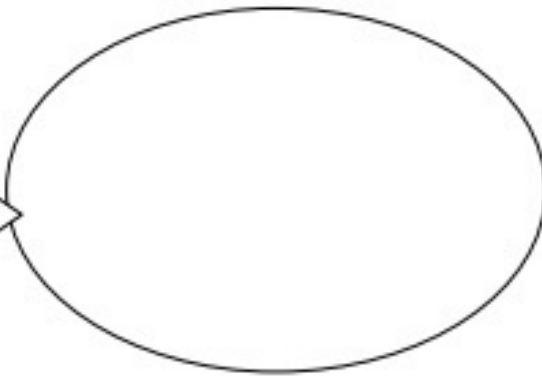
التعليم 3: أرتب أعداد العملية تنزلها :

.....

مع 2
أ
مع
ب2

المسند 3 :
قطفت عفاف باقة أزهار ملونة من الحديقة:

مع 2 ج



التعليم:

1 أحسب كم مجموعة الأزهار الملونة .

2 أرسم مجموعة أزهار حمراء أصغر من مجموعة الأزهار الملونة

3 أحسب العدد الجملي للأزهار :

. = . + .

مع 1
مع 1
مع 2
أ

4 أرتب أعداد العملية حسب اختياري :

.....

مع 2
مع 2 ج

عفاف	سندس	رفيق
	<div> <div>2</div> <div>5</div> <div>10</div> <div>1</div> <div>2</div> </div>	<div> <div>5</div> <div>5</div> <div>2</div> </div>
13 مي	15 ميمي

التعليمة:

أحسب مبلغ رفيق

أحيط بخط معلق مبلغ سندس

أمثل مبلغ عفاف بأقل قطع نقدية

مع 3

السند بإراد كل طفل شراء بسكويتا ب 14 مي.

أضع علامة تحت اسم الطفل الذي سيشتري البسكويت

مع 5

عفاف

سندس

رفيق

لأن

مع 5

جدول اسناد الأعداد

المعايير	مع 1 أ	مع 1 ب	مع 2 أ	مع 2 ب	مع 2 ج	مع 3	مع 5
(-)	0	0	0	0	0	0	0
(+)	1	1	0,5	0,5	0,5	0,5	
(++)	2	2	1	1	1	1	2
(+++)	3	3	1,5	2	1,5	2	3